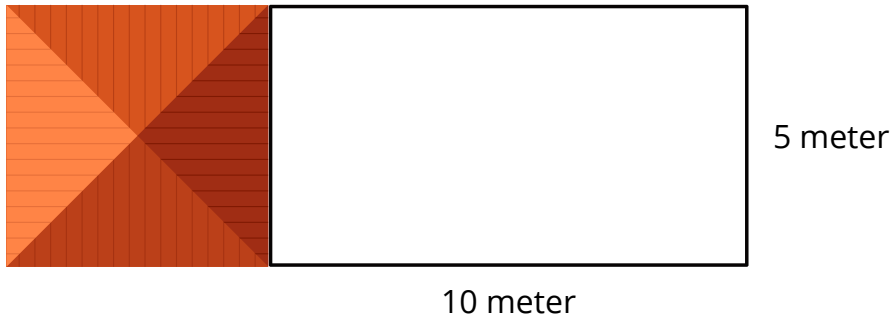


## Omtrek

- Timo wil een schutting om zijn achtertuin maken. Teken een blauwe lijn waar de schutting komt.



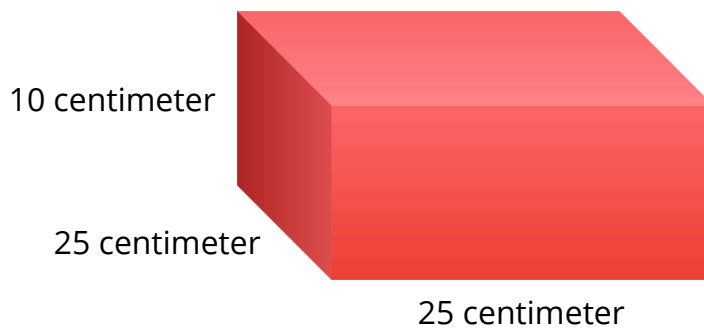
- Hoeveel meter wordt de schutting in totaal?

---



---

- Tess wil een lint om dit cadeautje heen maken. Teken waar het lint komt.



- Tess maakt geen strik. Het lint komt strak om de doos heen. Hoeveel centimeter moet het lint lang zijn?

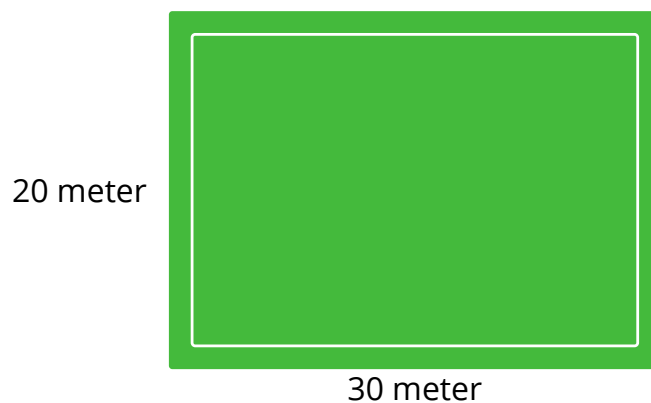
---

- Pyp rent 5 rondjes om dit veld. Hoeveel meter heeft hij gerend?

---




---



- In het park ligt een nieuwe vijver. Voor de veiligheid komt er een hek omheen. Hoeveel meter wordt het hek lang?

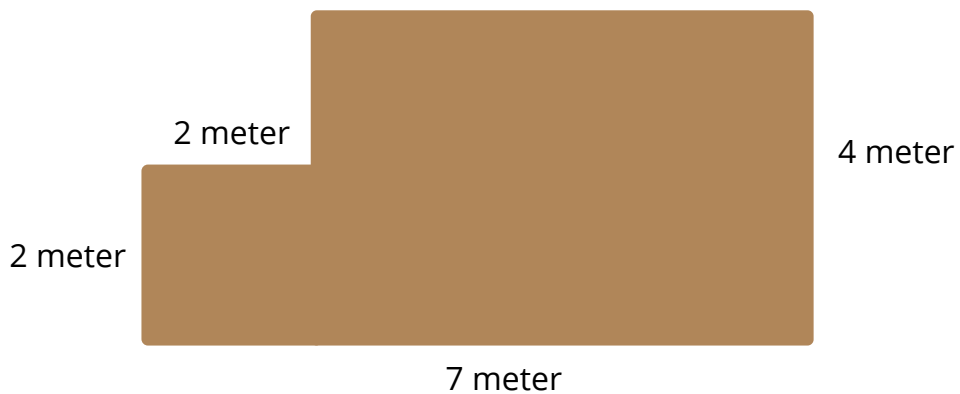
---

---



4 meter

- Dit is een bovenaanzicht van de woonkamer van Timo. Hij wil om de hele vloer een plint leggen. Trek een lijn waar de plint komt.



- Hoeveel meter plint heeft Timo nodig?

---

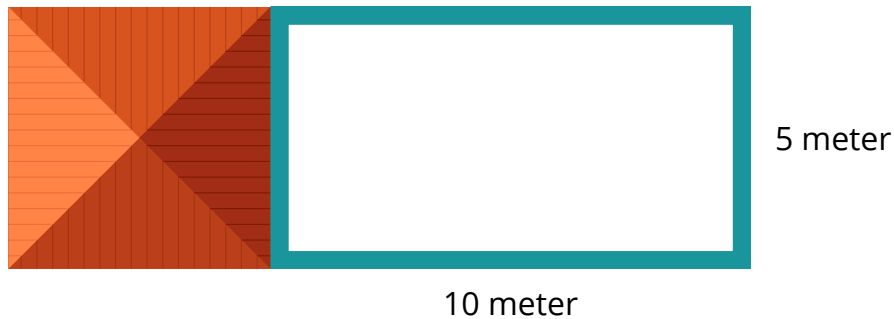
- De plinten kosten €4,50 per meter. Hoeveel moet Timo betalen om een rondje om de hele kamer te leggen?

---

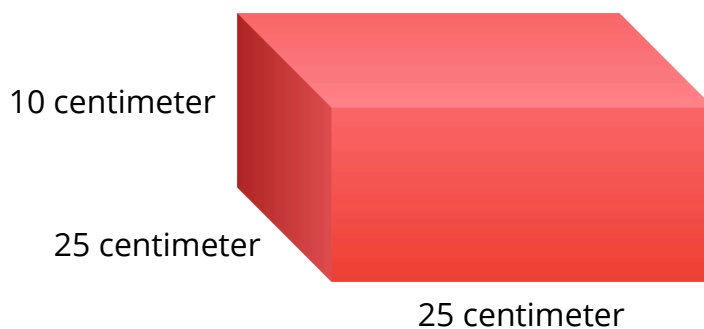
---

Omtrek

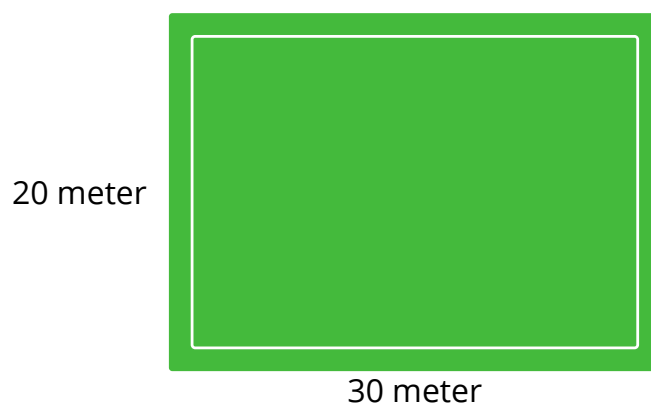
- Timo wil een schutting om zijn achtertuin maken. Teken een blauwe lijn waar de schutting komt.



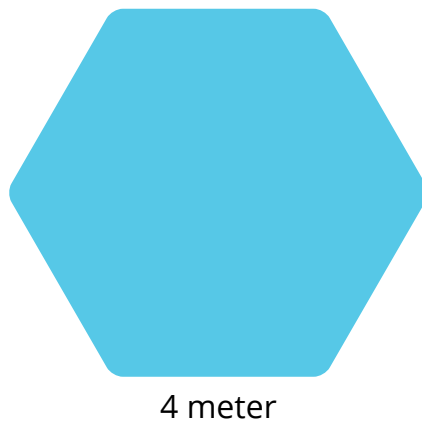
- Hoeveel meter wordt de schutting in totaal?  
 $10 \text{ meter} + 10 \text{ meter} + 5 \text{ meter} + 25 \text{ meter}$
- Tess wil een lint om dit cadeautje heen maken. Teken waar het lint komt. Meerdere antwoorden mogelijk.



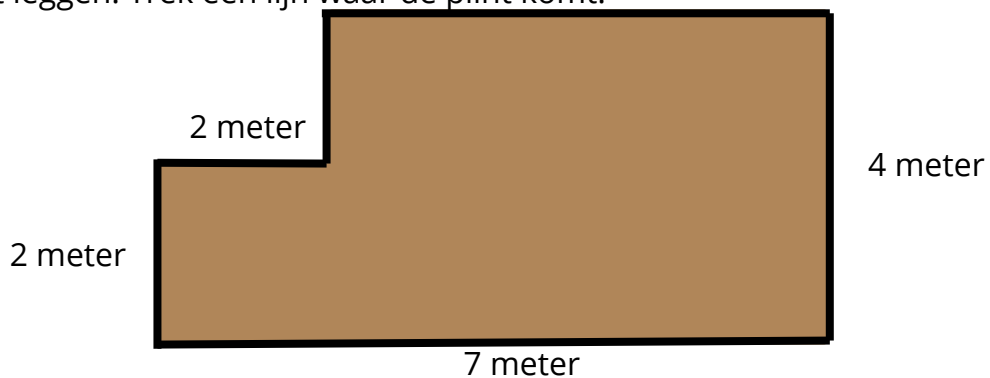
- Tess maakt geen strik. Het lint komt strak om de doos heen. Hoeveel centimeter moet het lint lang zijn?  
 $25 \text{ cm} + 25 \text{ cm} + 10 \text{ cm} + 10 \text{ cm} = 70 \text{ cm}$   
of  $25 \text{ cm} + 25 \text{ cm} + 25 \text{ cm} + 25 \text{ cm} = 100 \text{ cm}$
- Pyp rent 5 rondjes om dit veld. Hoeveel meter heeft hij gerend?  
 $30 \text{ m} + 30 \text{ m} + 20 \text{ m} + 20 \text{ m} = 100 \text{ m}$   
 $100 \text{ m} \times 5 = 500 \text{ m}$



- In het park ligt een nieuwe vijver. Voor de veiligheid komt er een hek omheen. Hoeveel meter wordt het hek lang?  
 $6 \times 4 \text{ m} = 24 \text{ m}$



- Dit is een bovenaanzicht van de slaapkamer van Timo. Hij wil om de hele vloer een plint leggen. Trek een lijn waar de plint komt.



- Hoeveel meter plint heeft Timo nodig?  
 $7 \text{ m} + 2 \text{ m} + 2 \text{ m} + 2 \text{ m} + 5 \text{ m} + 4 \text{ m} = 22 \text{ m}$
- De plinten kosten €4,50 per meter. Hoeveel moet Timo betalen om een rondje + om de hele kamer te leggen?  
 $22 \times €4,50 = €99,00$