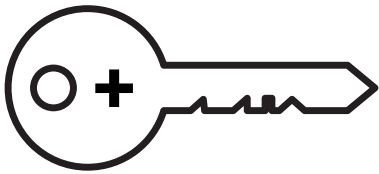
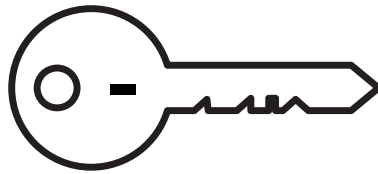


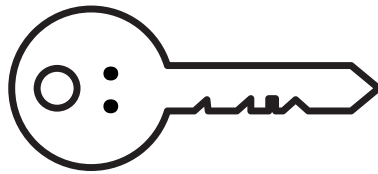
Lees de som. Onderstreep het sleutelwoord en zet de som die je moet maken onder de goede sleutel . Let op! Sommige sommen passen bij twee sleutels.


- Puppy Rocky weegt bij zijn geboorte 325 gram. Na tien dagen is zijn gewicht verdubbeld. Hoeveel weegt Rocky nu?
- In een pak druiven zit 400 gram. Rens eet $\frac{7}{8}$ deel op. Hoeveel gram is dat?
- In Zoeterzee woonden vorig jaar 47.592 inwoners. Dit jaar zijn er 2.893 mensen bijgekomen. Hoeveel inwoners zijn er nu?
- 1 op de 3 kinderen heeft een huisdier. Op de Florisschool zitten 327 kinderen. Hoeveel van die kinderen hebben er dan een huisdier?
- Het is nu 14:25 uur. De bus vertrok 83 minuten geleden. Hoe laat vertrok de bus?
- Op een vrachtschip mag maximaal 3.600.000 kilo vervoert worden. Een vrachtwagen weegt ongeveer 30.000 kilo. Hoeveel vrachtwagens passen er maximaal op een vrachtschip?
- Normaal kost een jas €139,00 Je krijgt nu 25% korting. Wat kost de jas nu?
- Rob legt tegels in de tuin. De tuin is 12,5 m lang en 8 m breed. Hoeveel vierkante meter hebben zij nodig?
- Isa heeft 450 munten van 20 cent. Voor hoeveel briefjes van 10 euro kan zij dit inwisselen?
- Per jaar komen er 64.344 mensen in de supermarkt. Hoeveel mensen zijn dat gemiddeld per maand?
- Jan heeft dit jaar 9245 km gefietst. Jos heeft er 13465 gefietst. Hoeveel heeft Jos meer dan Jan gefietst?
- In week 1 verdient Hester €295,00, in week 2 €360,50, in week 3 €463,50 en in week 4 €143,25. Hoeveel heeft Hester na 4 weken bij elkaar verdiend?







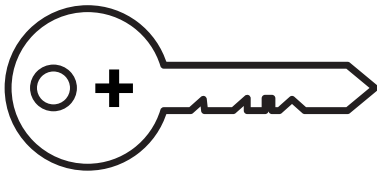




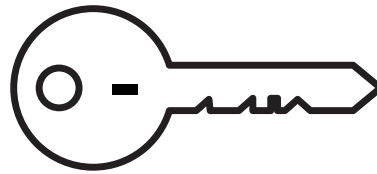


Lees de som. Onderstreep het sleutelwoord en zet de som die je moet maken onder de goede sleutel . Let op! Sommige sommen passen bij twee sleutels.

- Puppy Rocky weegt bij zijn geboorte 325 gram. Na tien dagen is zijn gewicht **verdubbeld**. Hoeveel weegt Rocky nu?
- In een pak druiven zit 400 gram. Rens eet $\frac{7}{8}$ **deel** op. Hoeveel gram is dat?
- In Zoeterzee woonden vorig jaar 47.592 inwoners. Dit jaar zijn er 2.893 mensen **bijgekomen**. Hoeveel inwoners zijn er nu?
- **1 op de 3** kinderen heeft een huisdier. Op de Florisschool zitten 327 kinderen. Hoeveel van die kinderen hebben er dan een huisdier?
- Het is nu 14:25 uur. De bus vertrok 83 minuten **geleden**. Hoe laat vertrok de bus?
- Op een vrachtschip mag maximaal 3.600.000 kilo vervoert worden. Een vrachtwagen weegt ongeveer 30.000 kilo. Hoeveel vrachtwagens **passen** er maximaal op een vrachtschip?
- Normaal kost een jas €139,00 Je krijgt nu 25% **korting**. Wat kost de jas nu?
- Rob legt tegels in de tuin. De tuin is 12,5 m lang en 8 m breed. Hoeveel **vierkante meter** hebben zij nodig?
- Isa heeft 450 munten van 20 cent. Voor hoeveel briefjes van 10 euro kan zij dit **inwisselen**?
- Per jaar komen er 64.344 mensen in de supermarkt. Hoeveel mensen zijn dat **gemiddeld** per maand?
- Jan heeft dit jaar 9245 km gefietst. Jos heeft er 13465 gefietst. Hoeveel heeft Jos **meer dan** Jan gefietst?
- In week 1 verdient Hester €295,00, in week 2 €360,50, in week 3 €463,50 en in week 4 €143,25. Hoeveel heeft Hester na 4 weken **bij elkaar** verdiend?



$$\underline{47.592 + 2.893 = 50.485}$$



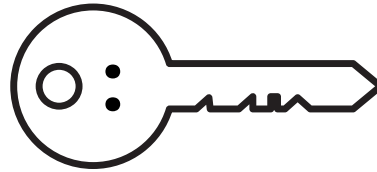
$$\underline{14.25 \text{ uur} - 83 \text{ minuten} = 13.02 \text{ uur}}$$

$$\underline{\begin{array}{l} \text{€}295,00 + \text{€}360,50 + \\ \text{€}463,50 + \text{€}143,25 = \text{€}1.62,25 \end{array}}$$

$$\underline{64.344 : 12 = 5.362 \text{ mensen}}$$




$$\underline{325 \times 2 = 750 \text{ gram}}$$



$$\underline{327 : 3 = 109 \text{ kinderen}}$$

$$\underline{12,5 \text{ m} \times 8 \text{ m} = 100 \text{ m}^2}$$

$$\underline{3.600.000 : : 30.000 = 120 \text{ vrachtwagens}}$$



$$\text{A. } \underline{400 : 8 = 50} \quad \text{B. } \underline{50 \times 7 = 350 \text{ gram}}$$



$$\text{A. } \underline{450 \times 20 = 9000 \text{ cent}}$$

$$\text{B. } \underline{9000 \text{ cent} : 100 = 90 \text{ euro}}$$

$$\text{C. } \underline{90 \text{ euro} : 10 = 9 \text{ briefjes}}$$

prijs	€139,00	€104,25
%	100%	75%

Uiteraard zijn dit mogelijke antwoorden. Er zijn natuurlijk ook andere manieren om de som aan te pakken. Ga hier vooral over in gesprek.