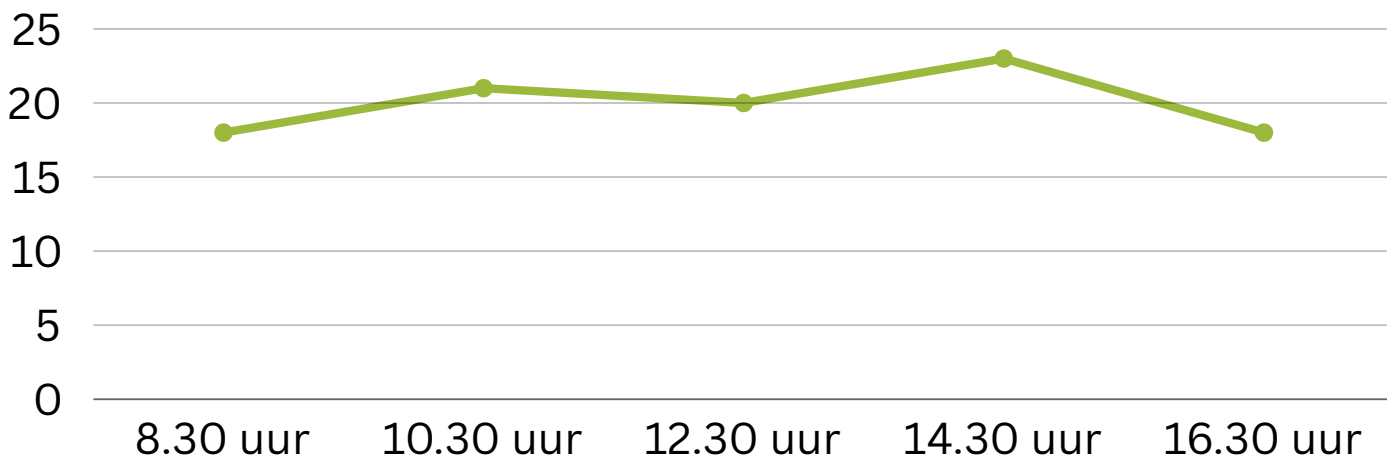




Bekijk de grafiek. Beantwoord de vragen en bedenk daarna zelf 3 vragen die je over de grafiek kunt stellen.

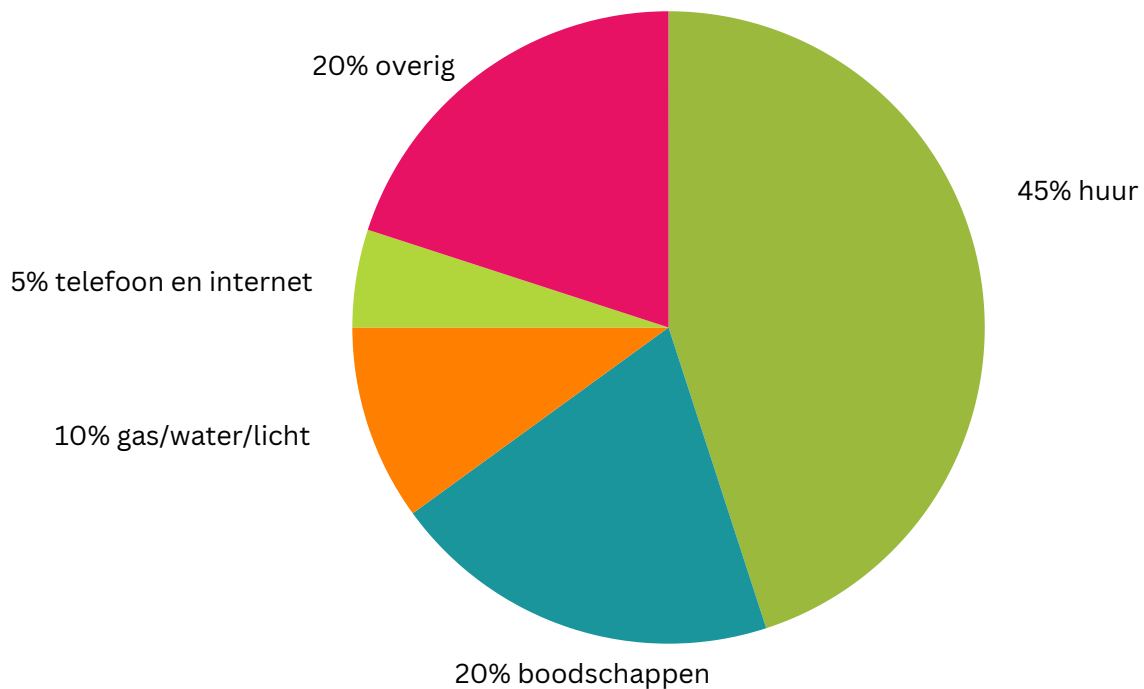
■ **Temperatuur in de klas**



- Wat kun je aflezen van deze grafiek?  
\_\_\_\_\_
- Wat betekenen de cijfers die van boven naar beneden staan aan de linker kant van het grafiek?  
\_\_\_\_\_
- Wat betekenen de tijden aan de onder kant van de grafiek?  
\_\_\_\_\_
- Hoe laat is het het warmst in de klas?  
\_\_\_\_\_
- Bedenk zelf nog 3 vragen die je over deze grafiek kunt stellen.  
1. \_\_\_\_\_  
\_\_\_\_\_
- 2. \_\_\_\_\_  
\_\_\_\_\_
- 3. \_\_\_\_\_  
\_\_\_\_\_

## Kosten verdeling per maand

Totaal inkomen: €1600,00 per maand



- Wat kun je aflezen in dit cirkeldiagram?

---

- Waar wordt het meeste geld aan uitgegeven?

---

- Welke twee kostenposten zijn even hoog?

---

- Hoeveel kosten de huur, telefoon en internet en het gas, water en licht samen?

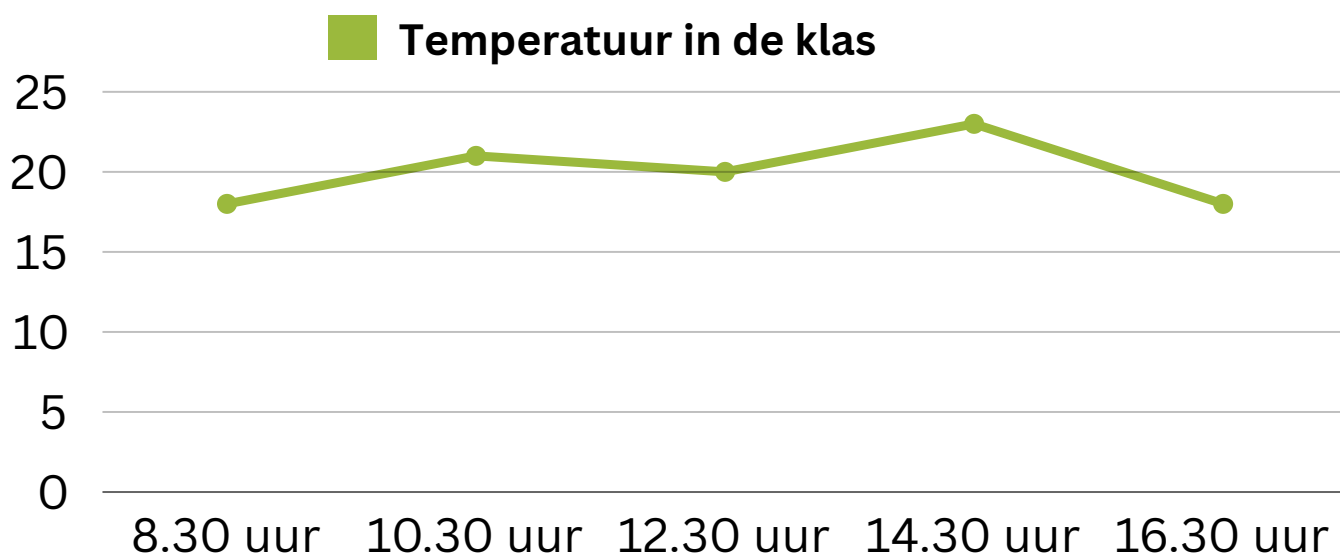
---

- Bedenk zelf nog twee vragen bij dit cirkeldiagram.

1. \_\_\_\_\_

2. \_\_\_\_\_

Bekijk de grafiek. Beantwoord de vragen en bedenk daarna zelf 3 vragen die je over de grafiek kunt stellen.

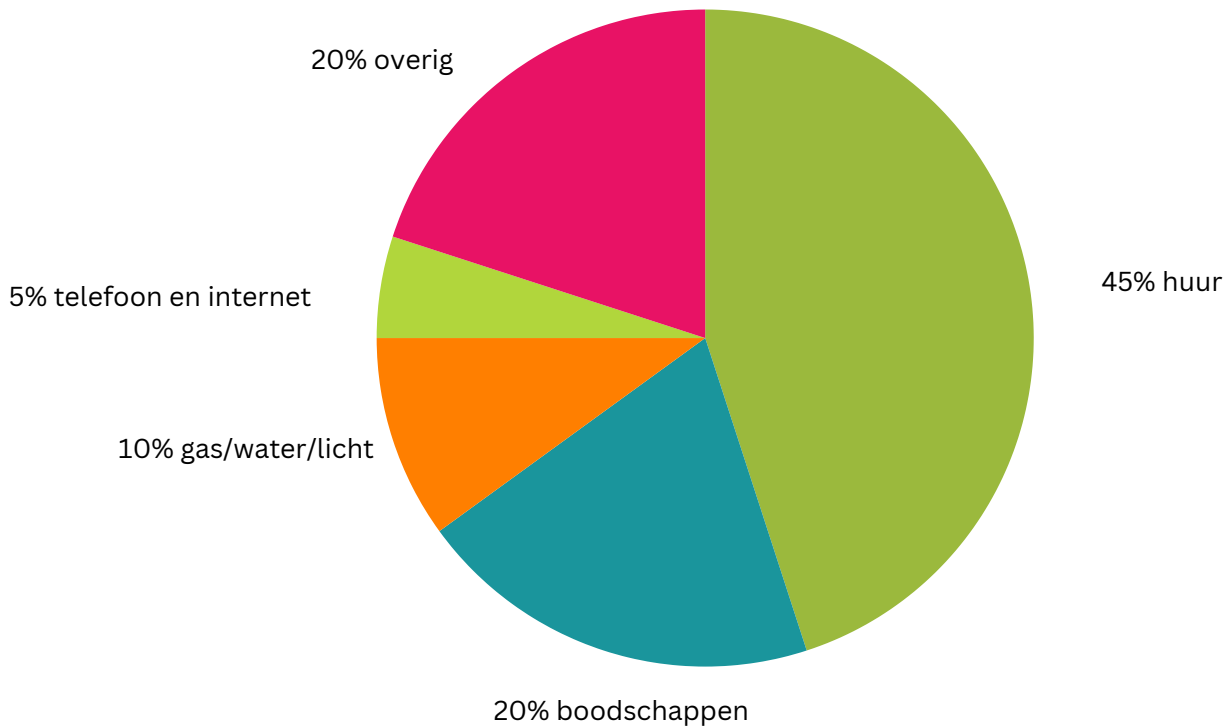


- Wat kun je aflezen van deze grafiek?  
Het verloop van de temperatuur in de klas op één dag.
- Wat betekenen de cijfers die van boven naar beneden staan aan de linker kant van het grafiek?  
De temperatuur in graden.
- Wat betekenen de tijden aan de onder kant van de grafiek?  
Het tijdstip waarop de temperatuur gemeten is.
- Hoe laat is het het warmst in de klas?  
14.30 uur
- Bedek zelf nog 3 vragen die je over deze grafiek kunt stellen.

1. \_\_\_\_\_  
\_\_\_\_\_
2. \_\_\_\_\_  
\_\_\_\_\_
3. \_\_\_\_\_  
\_\_\_\_\_

### Kosten verdeling per maand

Totaal inkomen: €1600,00 per maand



- Wat kun je aflezen in dit cirkeldiagram?  
Hoeveel geld iemand aan verschillende kosten uitgeeft per maand.
- Waar wordt het meeste geld aan uitgegeven?  
De huur
- Welke twee kostenposten zijn even hoog?  
De boodschappen en overig
- Hoeveel kosten de huur, telefoon en internet en het gas, water en licht samen?  
€960,00
- Bedenk zelf nog twee vragen bij dit cirkeldiagram.  
1. \_\_\_\_\_  
2. \_\_\_\_\_